

KLOCKI



Przyjrzyj się, jaki plan zamku narysowały dzieci. Pokoloruj według opisu.



żółty




zielony




niebieski



czerwony



Zuza zbudowała wieżę z trzech prostokątnych klocków. Długość jednego klocka wynosi 3 cm. Jaka jest wysokość całej wieży?



Odp.

Kaj i Maks zbudowali z klocków pociąg. Ile wagonów ma pociąg? Najdłuższy wagon pokoloruj na niebiesko, a najkrótszy na żółto.

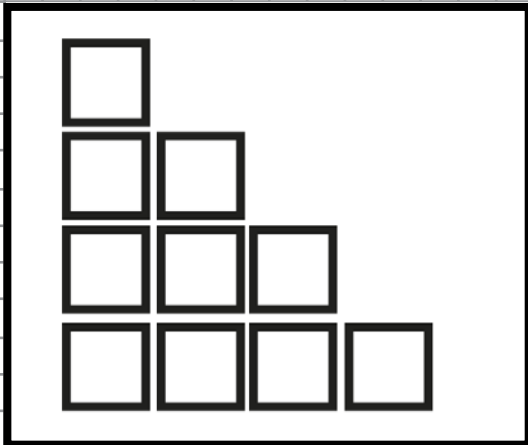


Odp.

Zuza wyszukała klocki trójkątne: 5 małych trójkątów i 4 duże trójkąty. Ile trójkątnych klocków ma Zuza? Narysuj te klocki.

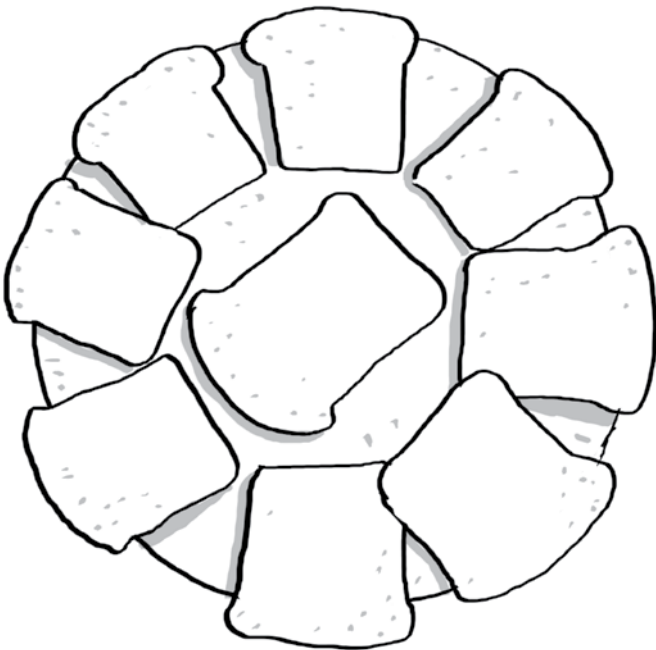
Odp.

Kaj miał 10 klocków kwadratowych. 7 klocków wykorzystał do budowy domu. Ile mu zostało niewykorzystanych klocków kwadratowych?



Odp.

Mama Maksa przygotowała dla dzieci 9 kanapek. 3 kanapki były z serem i pomidorem, 2 z szynką i ogórkiem, a pozostałe z sałatą i rzodkiewkami. Ile było kanapek z sałatą i rzodkiewkami? Dokończ rysunek.



Odp.

W czasie wizyty kot Florek spał jedną godzinę na kanapie, jedną godzinę na zburzonym zamku i jedną godzinę na fotelu. Jak długo spał Florek w czasie wizyty?



Odp.