

Witold Wrotek

# Elektronika bez oporu

praktyczne  
przykłady

Wszelkie prawa zastrzeżone. Nieautoryzowane rozpowszechnianie całości lub fragmentu niniejszej publikacji w jakiegokolwiek postaci jest zabronione. Wykonywanie kopii metodą kserograficzną, fotograficzną, a także kopiowanie książki na nośniku filmowym, magnetycznym lub innym powoduje naruszenie praw autorskich niniejszej publikacji.

Wszystkie znaki występujące w tekście są zastrzeżonymi znakami firmowymi bądź towarowymi ich właścicieli.

Autor oraz wydawca dołożyli wszelkich starań, by zawarte w tej książce informacje były kompletne i rzetelne. Nie biorą jednak żadnej odpowiedzialności ani za ich wykorzystanie, ani za związane z tym ewentualne naruszenie praw patentowych lub autorskich. Autor oraz wydawca nie ponoszą również żadnej odpowiedzialności za ewentualne szkody wynikłe z wykorzystania informacji zawartych w książce.

Redaktor prowadzący: Małgorzata Kulik

Projekt okładki: Studio Gravite / Olsztyn

Obarek, Pokoński, Pazdrijowski, Zaprucki

Grafika na okładce została wykorzystana za zgodą Shutterstock.com

Helion S.A.

ul. Kościuszki 1c, 44-100 Gliwice

tel. 32 231 22 19, 32 230 98 63

e-mail: [helion@helion.pl](mailto:helion@helion.pl)

WWW: <https://helion.pl> (księgarnia internetowa, katalog książek)

Drogi Czytelniku!

Jeżeli chcesz ocenić tę książkę, zajrzyj pod adres

<https://helion.pl/user/opinie/eleprp>

Możesz tam wpisać swoje uwagi, spostrzeżenia, recenzję.

ISBN: 978-83-283-7272-6

Copyright © Helion S.A. 2022

Printed in Poland.

- [Kup książkę](#)
- [Poleć książkę](#)
- [Oceń książkę](#)

- [Księgarnia internetowa](#)
- [Lubię to! » Nasza społeczność](#)

# SPIS TREŚCI

<b>WSTĘP</b>	<b>7</b>
<b>1. POCZĄTEK WSZYSTKIEGO, CZYLI ŹRÓDŁA</b>	<b>10</b>
Układ elektryczny a układ elektroniczny	11
Co mają wspólnego piorun i długopis?	11
Dlaczego dotyk wywołuje iskrę elektryczną?	13
Co oznacza elektryzowanie przez indukcję?	14
Skąd się biorą ładunki elektryczne?	15
Pytania sprawdzające wiedzę	16
Poprawne odpowiedzi	17
<b>2. WYKONUJEMY WŁASNĄ ELEKTROWNIĘ</b>	<b>18</b>
Megabateria, czyli jak łączyć baterie, gdy jedna jest za słaba	20
Jak oszacować wartość natężenia prądu?	23
Jak działa elektrownia?	24
Pytania sprawdzające wiedzę	26
Poprawne odpowiedzi	27
<b>3. JAK KONTROLOWAĆ PRĄD ELEKTRYCZNY?</b>	<b>28</b>
Jak ograniczyć natężenie prądu?	31
Dzielnik napięciowy	35
Czy istnieje również dzielnik prądowy?	37
Pytania sprawdzające wiedzę	39
Poprawne odpowiedzi	40
<b>4. DWA ŁYKI MATEMATYKI, CZYLI DLACZEGO REZYSTOR DYMI</b>	<b>41</b>
Jak zwiększyć moc rezystora?	44
Antycypacja	45
Element o dokładnej wartości poszukiwany!	46

Zakres pomiarowy miernika a dokładność pomiaru	47
Pytania sprawdzające wiedzę	49
Poprawne odpowiedzi	50
<b>5. CZY MOŻNA PRZECHOWYWAĆ ELEKTRYCZNOŚĆ?</b>	<b>51</b>
Pytania sprawdzające wiedzę	58
Poprawne odpowiedzi	60
<b>6. AUTOMATYCZNY ZAWÓR JEDNOKIERUNKOWY</b>	<b>61</b>
Dwa łyki matematyki	66
Od teorii do praktyki	68
Pytania sprawdzające wiedzę	72
Poprawne odpowiedzi	73
<b>7. CZY PRZEBITA DIODA COŚ DO UKŁADU DODA?</b>	<b>75</b>
Pytania sprawdzające wiedzę	85
Poprawne odpowiedzi	86
<b>8. CHARAKTERYSTYKA I CO Z NIEJ WYNIKA</b>	<b>89</b>
Charakterystyka rezystora	92
Charakterystyka diody LED	95
Charakterystyka diody Zenera	99
Do czego służy charakterystyka?	102
Pytania sprawdzające wiedzę	103
Poprawne odpowiedzi	104
<b>9. NADESZŁA PORA, ABY POZNAĆ WŁAŚCIWOŚCI TRANZYSTORA</b>	<b>105</b>
A jeśli układ nie działa?	110
Małe jest piękne, ale czasami słabo widoczne	111
Co da się zmierzyć, to można poprawić	111
Właściwości układu tranzystorowego	113
Pytania sprawdzające wiedzę	119
Poprawne odpowiedzi	120
<b>10. TRANZYSTOR JAKO PRZEŁĄCZNIK I SUPERWZMACNIACZ</b>	<b>121</b>
Przełączanie napięciem	121
Karty katalogowe dostarczają podstawowych informacji	124
Wykrywacz pól elektrycznych	127
Pytania sprawdzające wiedzę	129
Poprawne odpowiedzi	130

<b>11. CO MAJĄ WSPÓLNEGO TRANZYSTOR I WC?</b>	<b>131</b>
Wtórnik emiterowy lub układ ze wspólnym emiterem WE	135
Układ ze wspólną bazą, czyli WB	138
Jak wyznaczyć punkt pracy? Uchylam rąbka tajemnicy	139
Układ ze wspólnym kolektorem — WC	141
Pytania sprawdzające wiedzę	141
Poprawne odpowiedzi	143
<b>12. TRANZYSTOR NIEJEDNO MA IMIĘ</b>	<b>144</b>
Czy tranzystor średniej mocy jest groźny?	148
Czuły niczym nos psa. Układ Darlingtona	151
Pytania sprawdzające wiedzę	154
Poprawne odpowiedzi	155
<b>13. ELEKTRONICZNE ZMYSŁY</b>	<b>156</b>
Wykrywacz kabli	156
Detektor oświetlenia	158
Układ sterowany magnesem	166
Ciepło, ciepłej, gorąco	169
Pytania sprawdzające wiedzę	171
Poprawne odpowiedzi	172
<b>14. CO TO JA MIAŁEM? DOBRĄ PAMIĘĆ?</b>	<b>173</b>
Jak zapamiętać zdarzenie?	176
Pytania sprawdzające wiedzę	180
Poprawne odpowiedzi	181
<b>15. NIESTABILNOŚĆ W CENIE</b>	<b>182</b>
Nie strzelaj do muchy z armaty	185
Generator na układzie scalonym	186
Co to jest inwerter?	188
Pytania sprawdzające wiedzę	193
Poprawne odpowiedzi	194
<b>16. LOGIKA PRZEŁĄCZNIKA</b>	<b>195</b>
AND lub iloczyn logiczny	195
OR lub suma logiczna	198
Zastosowania iloczynu i sumy logicznej	199
NOT lub negacja	200
Zastosowania negacji	203
Układ scalony realizujący funkcję OR lub suma logiczna	204
Zastosowania alternatywy, sumy logicznej, OR	205

## ELEKTRONIKA BEZ OPORU

Zdanie oceniane w sensie logiki	206
Pytania sprawdzające wiedzę	208
Poprawne odpowiedzi	208
<b>17. LOGIKA STOSOWANA</b>	<b>209</b>
Stabilizator 5 V	211
Pierwszy układ zasilany ze stabilizatora	215
Pytania sprawdzające wiedzę	218
Poprawne odpowiedzi	219
<b>18. NIE TYLKO NAND</b>	<b>220</b>
Analiza układu	228
Pytania sprawdzające wiedzę	229
Poprawne odpowiedzi	230
<b>19. DANIA Z KARTY</b>	<b>231</b>
Tabele prawdy	231
Numerologia	235
Dwa łyki praktyki	238
Pytania sprawdzające wiedzę	240
Poprawne odpowiedzi	241
<b>20. ELEKTRONICZNE LICZYDŁO</b>	<b>242</b>
Pytania sprawdzające wiedzę	252
Poprawne odpowiedzi	252
<b>21. DEKREMENTACJA I INKREMENTACJA</b>	<b>253</b>
Pytania sprawdzające wiedzę	262
Poprawne odpowiedzi	263
<b>22. 555</b>	<b>264</b>
Czy można zamiennie stosować układy NE555, SA555 i SE555?	270
Układ bistabilny	271
Układ monostabilny	274
Pytania sprawdzające wiedzę	277
Poprawne odpowiedzi	278
<b>23. SZKIEŁKO I OKO</b>	<b>279</b>
Pytania sprawdzające wiedzę	285
Poprawne odpowiedzi	287



# 2

## WYKONUJEMY WŁASNĄ ELEKTROWNIĘ

Aby działał układ elektryczny lub elektroniczny, potrzebne jest zasilanie. Czy wykonanie źródła energii jest trudne? Okazuje się, że można zbudować je z przedmiotów, które znajdują się pod ręką.

Potrzebne będą: elektrolit, dwa kawałki metalu, woltomierz. Elektrolitem może być sok z cytryny lub ocet. Metalowe elektrody muszą być wykonane z dwóch różnych metali. Im większa będzie pomiędzy nimi różnica w potencjale elektrochemicznym (tabela 2.1), tym uzyskane napięcie będzie wyższe.

**Tabela 2.1. Potencjały elektrochemiczne popularnych metali**

<b>Metal</b>	<b>Potencjał elektrochemiczny [V]</b>
Aluminium	-1,66
Cynk	-0,76
Żelazo	-0,44
Nikiel	-0,24
Cyna	-0,14
Miedź	+0,35
Srebro	+0,80
Złoto	+1,42

Włóż do elektrolitu, którego rolę pełni miąższ cytryny, obie elektrody. Zmierz napięcie pomiędzy nimi (rysunek 2.1).


W przykładzie użyte zostały: złoto (obrączka), nikiel (powierzchnia agrafki) i cytryna (kwaśny sok w roli elektrolitu). Na zakresie pomiarowym do 2 V miernik wskazał napięcie 0,446 V.

Jak wytłumaczyć to, co zaszło?





Położenie metalu w szeregu napięciowym świadczy o jego aktywności elektrochemicznej, czyli zdolności do przyjmowania elektronów (utleniania się). **Szereg elektrochemiczny** obejmuje metale nieszlachetne o ujemnej wartości potencjału standardowego wykazujące aktywność chemiczną (leżące po stronie lewej od wodoru) oraz metale szlachetne o dodatniej wartości potencjału standardowego niewykazujące aktywności chemicznej (leżące po prawej stronie od wodoru). Miedź ma dodatni potencjał elektrochemiczny, ale ze względu na wyższą reaktywność niż metale szlachetne zalicza się do metali półszlachetnych.

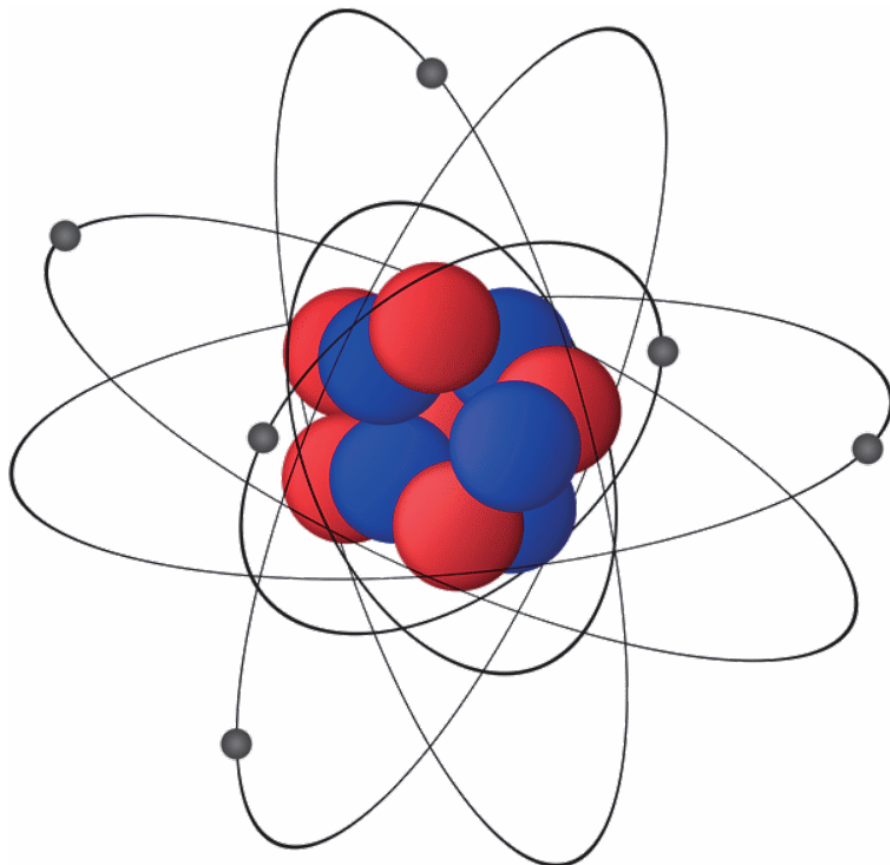


Rysunek 2.1. Napięcie powstało pomiędzy metalami o różnym potencjale elektrochemicznym zanurzonymi w kwasie



Pokazane na rysunku 2.1 źródło zamienia energię chemiczną na energię elektryczną w procesie noszącym nazwę **reakcji elektrochemicznej**.

Każdy atom składa się z jądra zawierającego protony o dodatnim ładunku elektrycznym. Wokół niego krążą naładowane ujemnie elektrony (rysunek 2.2). Sumaryczny ładunek atomu jest równy zeru, gdyż ładunki protonów i elektronów bilansują się.



**Rysunek 2.2. Atom jest obojętny elektrycznie**

(źródło: <https://pixabay.com/pl/illustrations/w%C4%99gla-wod%C3%B3r-atomu-cz%C4%85steczka-2222968/>)

Podczas reakcji elektrochemicznej elektrony opuszczają jedno atomy, a łączą się z innymi. Gdy nikiel reaguje chemicznie z kwasem, jest w stanie uwolnić elektrony. Reakcja nie trwa wiecznie. Elektrony zbierają się na elektrodzie niklowej. Są ładunkami jednoimiennymi i wzajemnie się odpychają.

Na drugim kawałku metalu powstaje niedobór ładunków ujemnych. Różnica sumarycznych ładunków pomiędzy oboma kawałkami to **napięcie elektryczne**.


## Megabateria, czyli jak łączyć baterie, gdy jedna jest za słaba

W przykładzie (rysunek 2.1) uzyskaliśmy napięcie bliskie 0,5 V. Co zrobić, gdy potrzebne jest napięcie wyższe?



W przykładzie celowo zanurzyliśmy w elektrolicie dwa metale o różnym potencjale elektrochemicznym. Zjawisko takie może mieć miejsce również w sposób niezamierzony. Rezultatem wytworzenia różnicy napięć jest **korozja elektrochemiczna** metali. Energia (w tym przypadku elektryczna) nie może powstawać z niczego. Jeżeli dwa metale stykają się i pada na nie np. kwaśny deszcz, to również powstanie źródło napięcia. Jego energia nie zostanie wykorzystana, niemniej metal ulegnie zniszczeniu.

Zobacz, jak sobie z tym poradzili konstruktorzy. Otwórz pojemnik na baterie np. w pilocie telewizora (rysunek 2.3). Znajduje tam się kilka baterii. Zmierz napięcie jednej.



Rysunek 2.3. Napięcie pojedynczej baterii („paluszka”) wynosi 1,36 V

Zmierz napięcie pomiędzy skrajnymi bateriami (rysunek 2.4). Powinno ono być iloczynem napięcia jednej baterii (rysunek 2.3) oraz liczby baterii.

W przykładzie  $3 \cdot 1,36 \text{ V} = 4,08 \text{ V}$ .



Skąd wynika rozbieżność pomiędzy pomiarem a obliczeniami? Powodów może być kilka. Jednym z nich jest dokładność miernika. Ostatnia cyfra ma prawo różnić się od wyniku obliczeń o  $\pm 1$ . Błąd ów spowodowany może być zaokrągleniem wartości zmierzonej przez miernik. Odchyłka może także wynikać stąd, że pomiar jest dokładny, ale jedna z baterii miała napięcie o 0,1 V niższe od pozostałych.



Napięcie dostarczane przez baterie jest napięciem stałym. Ma ono niezmienną w czasie polaryzację. Na rysunku 2.3 do bieguna dodatniego baterii dołączony został przewód oznaczony kolorem czerwonym. Na rysunku 2.4 podłączony on został do bieguna ujemnego. Stąd na wyświetlaczu pojawiła się wartość poprzedzona znakiem -. Miernik zasygnalizował biegunowość napięcia, gdyż pokrętko znajdowało się w zakresie pomiarowym DCV (ang. *direct current* — prąd stały).

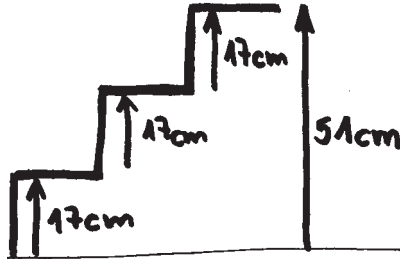


Rysunek 2.4. Sumaryczne napięcie trzech baterii ma wartość 4,07 V

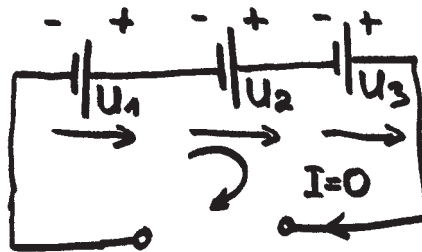
Jak wytłumaczyć to, że napięcie na rysunku 2.4 jest niemal trzy razy wyższe niż napięcie na rysunku 2.3?

Z napięciem połączonych szeregowo elementów jest podobnie jak ze schodami. Załóżmy, że każdy schodek ma tę samą wysokość, np. 17 cm. Pierwszy stopień jest na poziomie 17 cm. Wysokość drugiego (względem podstawy) to już  $17\text{ cm} + 17\text{ cm} = 34\text{ cm}$ . Trzeci stopień znajduje się na wysokości  $17\text{ cm} + 17\text{ cm} + 17\text{ cm} = 51\text{ cm}$  (rysunek 2.5).

Analogicznie sumujemy napięcia źródeł o tej samej polaryzacji (rysunek 2.6). Przy połączeniu szeregowym baterii istotna jest ich biegunowość („minus” jednej baterii musi być podłączony do „plusa” drugiej baterii). Sumaryczne napięcie będzie wynosiło  $U_1 + U_2 + U_3$ .



Rysunek 2.5. Każdy stopień ma wysokość 17 cm. Trzy stopnie mają wysokość 51 cm




Rysunek 2.6. Trzy baterie połączone szeregowo

## Jak oszacować wartość natężenia prądu?

Do zmierzenia prądu potrzebny jest amperomierz lub miernik uniwersalny. Co zrobić, jeśli nie mamy go pod ręką lub obawiamy się, że natężenie prądu może uszkodzić przyrząd?

Można użyć bezpiecznika topikowego (rysunek 2.7). Są w nim druty o różnej grubości. Na obudowie jest podane graniczne natężenie prądu, które może przepłynąć przez bezpiecznik bez spalenia drucika.

Pomiar jest zgrubny. Jeśli spalił się bezpiecznik 100 mA, a po wymianie na bezpiecznik 250 mA zasilanie działa, to znaczy, że natężenie prądu jest większe niż 100 mA i mniejsze niż 250 mA.



Rysunek 2.7. Bezpieczniki szklane topikowe szybkie


## Jak działa elektrownia?

Zamiana energii chemicznej na elektryczną ma miejsce w baterii. A co się dzieje w elektrowni? Zaraz to sprawdzimy. Nawiń na stalowym rdzeniu (można do tego celu wykorzystać wkrętak lub gwóźdź) kilka metrów drutu. Aby drut się nie rozwijał, uzwojenia możesz okleić przyklepcem. Do wyprowadzeń podłącz amperomierz.



Dla powodzenia eksperymentu ważne są: silny magnes oraz dobry kontakt pomiędzy zakończeniami przewodu a miernikiem. Jakość połączenia możesz sprawdzić omomierzem. Po podłączeniu do przewodu powinien sygnalizować zwarcie lub wskazywać  $0 \Omega$ . Następnie przełącz przyrząd na pomiar prądu.

Ustaw zakres pomiarowy na najmniejszy. Przesuwaj magnesem wzdłuż uzwojenia. Zaobserwuj wskazania przyrządu (rysunek 2.8).



Rysunek 2.8. Skąd w uzwojeniu pojawił się prąd?

Jak wytłumaczyć to, co się wydarzyło?

W atomach metalu znajdują się elektrony. Dopóki pole magnetyczne nie oddziaływało, nie doznawały wpływu żadnej siły zewnętrznej i pozostawały

w spoczynku. Cząstka mająca ładunek elektryczny (a taką jest elektron) i wpadająca w obszar pola magnetycznego z pewną prędkością doznaje działania siły nazywanej siłą Lorentza i osiągającej największą wartość, gdy ruch cząstki odbywa się w kierunku prostopadłym do linii pola. Jeżeli układ odniesienia będzie związany ze źródłem pola magnetycznego, to okaże się, że magnes będzie nieruchomy, a uzwojenie się poruszy, co będzie oznaczało, że elektrony znajdujące się w przewodzie wpadły w pole magnetyczne. W rezultacie nastąpi przesuwanie elektronów w jednym kierunku. Zjawisko to zaobserwował w 1831 roku angielski fizyk **Michael Faraday**. Zauważył on pojawianie się (indukowanie) w zamkniętym obwodzie prądu indukcyjnego pod wpływem zmian pola magnetycznego. **Indukcja elektromagnetyczna** jest obecnie najpowszechniejszą metodą wytwarzania prądu elektrycznego.

Wytwarzanie elektryczności na skalę przemysłową polega na umieszczeniu w zmiennym polu magnetycznym uzwojenia (oczywiście znacznie potężniejszego niż pokazane na rysunku 2.8). Pole jest zmienne, bo uzwojenie porusza się w nim obracane działającym na łopatki wirnika strumieniem wody (rysunek 2.9) lub powietrza (rysunek 2.10).



Rysunek 2.9. Elektrownia wodna

(źródło: <https://pixabay.com/pl/photos/hoover-dam-kolorado-nevada-arizona-3780254/>)



Rysunek 2.10. Farma wiatrowa (źródło: <https://pixabay.com/pl/photos/farma-wiatrowa-elektrownia-2856793/>)

## Pytania sprawdzające wiedzę

1. Reakcje chemiczne między elektrolitem a elektrodami zachodzą w:
  - a) Baterii.
  - b) Akumulatorze.
  - c) Ogniwie fotowoltaicznym.
  - d) Elektrowni wiatrowej i wodnej.
  - e) Dynamie rowerowym.
  - f) Elektrowni atomowej.
2. Napięcie elektryczne świadczy o tym, że:
  - a) Nastąpiło rozbitcie obojętnego elektrycznie atomu.
  - b) Protyny opuściły swoje miejsce w atomie i zgromadziły się tam, gdzie występuje ładunek dodatni.
  - c) Usunięto z atomu neutrony, które neutralizowały ładunki elektryczne.
  - d) Nastąpiło przemieszczenie elektronów tam, gdzie występuje ładunek ujemny.
  - e) Wystąpiły naprężenia mechaniczne w materiale.
3. Jeśli napięcie dostarczane przez pojedynczą baterię jest za niskie, trzeba:
  - a) Zastosować dzielnik napięciowy.
  - b) Połączyć baterie szeregowo.



- c) Połączyć baterie równolegle.
  - d) Połączyć baterie w gwiazdę.
  - e) Podgrzać baterię do temperatury 30°C.
4. Elektrownia:
- a) Jest gigantycznym akumulatorem przechowującą energię ze źródeł odnawialnych i udostępniającą ją w razie potrzeby.
  - b) Dokonuje dwukierunkowej zamiany energii, np. atomowej w elektryczną i elektrycznej w atomową.
  - c) Jest odpowiedzialna za dystrybucję energii, która jest produkowana ze źródeł odnawialnych.
  - d) Ogranicza pobór energii z sieci.
  - e) Zamienia jeden rodzaj energii w inny (np. wiejącego wiatru lub płynącej wody w energię elektryczną).

### Poprawne odpowiedzi

1a i b, 2d, 3b, 4e.



# PROGRAM PARTNERSKI

— GRUPY HELION —

- 
1. ZAREJESTRUJ SIĘ
  2. PREZENTUJ KSIĄŻKI
  3. ZBIERAJ PROWIZJĘ

Zmień swoją stronę WWW w działający bankomat!

**Dowiedz się więcej i dołącz już dzisiaj!**

<http://program-partnerski.helion.pl>

GRUPA  
**Helion**

# Elektronika bez oporu

praktyczne  
przykłady

## Elektronika? To nic trudnego!

- **Poznaj fizyczne podstawy działania elementów i układów elektronicznych**
- **Naucz się budować typowe układy analogowe i cyfrowe**
- **Eksperymentuj, aby pogłębić swoją wiedzę i zdobyć doświadczenie**

Urządzenia elektroniczne otaczają nas zewsząd. Nie sposób obecnie wykonać nawet najprostszej czynności, która nie wymagałaby użycia jakiegoś rodzaju sprzętu elektronicznego. Smartfony, mikrofalówki, pralki automatyczne czy bankomaty to tylko wybrane przykłady urządzeń, bez których trudno wyobrazić sobie codzienne życie. Tymczasem większość z nas nie ma nawet cienia pojęcia o tym, jak działają układy elektroniczne, a gdy cokolwiek zaczyna szwankować, potrzebujemy pomocy fachowca lub... rozglądamy się za nowszym modelem.

Celem tej książki jest bezbolesne wprowadzenie czytelnika w niezwykle interesujący i tajemniczy świat elektroniki. Dzięki praktycznym przykładom może on w swoim tempie, w naturalny i bezpieczny sposób poznawać zjawiska fizyczne odpowiedzialne za działanie urządzeń elektronicznych i stopniowo odkrywać coraz bardziej zaawansowane zagadnienia, nie zniechęcając się nadmiarem teorii czy specjalistycznym żargonem. Nauka przez doświadczenie to motyw przewodni tej książki, pora zatem zakasać rękawy i rozpocząć eksperymenty!

- **Zjawiska elektryczne wokół nas**
- **Sposoby generowania energii elektrycznej**
- **Podstawowe elementy elektroniczne i ich zastosowanie**
- **Układy elektroniczne na bazie tranzystorów**
- **Generowanie sygnałów elektrycznych**
- **Sposób działania bramek logicznych**
- **Podstawy konstrukcji układów cyfrowych**
- **Praktyczne projekty urządzeń elektronicznych**

## Zwalcz swój opór – naucz się elektroniki!

	<i>Sprawdź nasze szkolenia!</i>	<b>KOD KORZYŚCI</b> <i>Sięgnij po więcej!</i> 	
 <b>helion.pl</b>	 <b>AKADEMIA IT &amp; BUSINESS</b> <b>HELIONSZKOLENIA.PL</b>	<b>ISBN 978-83-283-7272-6</b>  9 788328 372726	
 <b>HELION SA</b> ul. Kościuszki 1c 44-100 Gliwice tel.: 32 230 98 63 helion@helion.pl		<b>INFORMATYKA W NAJLEPSZYM WYDANIU</b> <span style="float: right;">Cena: 49,90 zł</span>	