


Н.О. Будна

# Математика

## Блокнот №5

Одиниці вимірювання довжини.  
Задачі на знаходження четвертого  
пропорційного способом відношення

4 клас



ТЕРНОПІЛЬ  
НАВЧАЛЬНА КНИГА — БОГДАН

УДК 51(075.2)

ББК 22.1я71

Б 90

*Серію «Тренувальні 10-хвилинки» засновано 2016 року*

**Будна Н.О.**

Б 90 Математика : 4 кл. : Блокнот №5. Одиниці вимірювання довжини. Задачі на знаходження четвертого пропорційного способом відношення / Н.О. Будна. — Тернопіль : Навчальна книга — Богдан, 2023. — 16 с. — (Тренувальні 10-хвилинки).

ISBN 978-966-10-7151-2

Пропонований посібник входить до серії 14-ти блокнотів «Тренувальні 10-хвилинки», мета яких — закріпити обчислювальні навички та вміння розв'язувати рівняння, нерівності, задачі учнями 4-го класу.

Блокнот містить картки з вправами та завданнями, розрахованими на 10-хвилинне виконання, а також підсумковий контроль знань «Перевір себе» з навчальної теми та відповіді для самоперевірки.

Посібник зручний у використанні. Працювати з ним можна не лише в школі чи вдома, а й під час подорожі, відпочинку на природі.

Для учнів 4-х класів, учителів та дбайливих батьків.

УДК 51(075.2)

ББК 22.1я71

---

*Навчальне видання*

БУДНА Наталя Олександрівна

## **МАТЕМАТИКА**

### **Блокнот №5**

**Одиниці вимірювання довжини. Задачі на знаходження четвертого пропорційного способом відношення**

#### **4 клас**

Головний редактор *Богдан Будний*

Редактор *Любов Левчук*

Обкладинка *Ростислава Крамара*

Комп'ютерна верстка *Лілії Скоренької*

Технічний редактор *Неля Домарецька*

Підписано до друку 14.07.2022. Формат 60x84/8. Папір офсетний. Гарнітура Таймс. Умовн. друк. арк. 1,86. Умовн. фарбо-відб. 1,86.

Видавництво «Навчальна книга — Богдан»

Свідоцтво про внесення суб'єкта видавничої справи до Державного реєстру видавців, виготівників і розповсюджувачів видавничої продукції

ДК № 4221 від 07.12.2011 р.

Навчальна книга — Богдан, просп. С. Бандери, 34а, м. Тернопіль, 46002

Навчальна книга — Богдан, а/с 529, м. Тернопіль, 46008

тел./факс (0352) 52-19-66; 52-06-07; 52-05-48

office@bohdan-books.com

www.bohdan-books.com

© Навчальна книга — Богдан, 2023

## КАРТКА №1

### 1. Вирази в сантиметрах.

$4 \text{ м} = \square \square \square \square$

$7 \text{ м } 02 \text{ см} = \square \square \square \square$

$6 \text{ м} = \square \square \square \square$

$2 \text{ дм } 7 \text{ см} = \square \square \square \square$

$83 \text{ мм} = \square \square \square \square$

$400 \text{ мм} = \square \square \square \square$

### 2. Порівняй.

$5080 \text{ м} \square 5 \text{ км } 800 \text{ м}$


$5 \text{ км} \square 500 \text{ м}$

$5020 \text{ мм} \square 502 \text{ см}$


$150 \text{ см} \square 150 \text{ дм}$

### 3. Розв'яжи задачу.

Із 16 кг свіжих фруктів виходить 3 кг сушених. Скільки кілограмів сушених фруктів вийде із 160 кг свіжих фруктів?



### 4. Знайди периметр прямокутника із сторонами завдовжки 12 дм і 6 дм.



Кінець безкоштовного уривку.  
Щоби читати далі, придбайте,  
будь ласка, повну версію  
КНИГИ.